

Adı :
Soyadı:

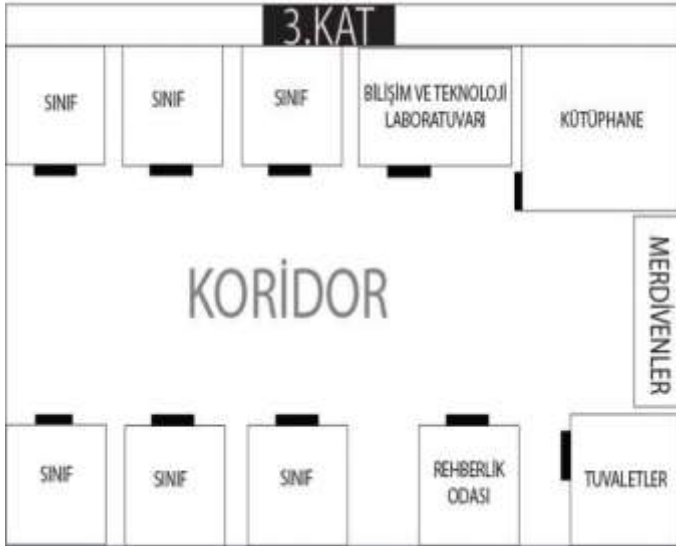
3. Sınıf Hayat Bilgisi

Okulumuzda Hayat Kroki Çizelim



Bir yere kuşlar gibi yukarıdan bakmaya **kuş bakışı** deriz. Bir yerin görüntüsünün kuş bakışı kabataslak çizilmesine **kroki** denir. Küçük yerlerin krokisini çizeriz. Sokağın, caddenin, okulun, evin, sınıfın krokisini çizebiliriz. Şehir ve ülkelerin krokisi yerine haritası çizilir.

Bir yerin krokisini çizerken ayrıntılı yerler çizilmez. Önemli yerler belirtilir. Okulumuzun krokisi çizilirken sınıflar, tuvaletler, koridorlar, kantin, bahçe, kütüphane, müdür odası, öğretmenler odası gibi önemli yerler gösterilir. Öğrenci, öğretmen gibi sürekli **hareket** eden , yerleri değişebilen varlıklar çizilmez.



Sınıfımızın da krokisini çizebiliriz. Krokide öğretmen masası, yazı tahtası, sıralar, pencere, kapı, panolar gibi önemli eşyalar çizilir. Sınıf krokisinde öğrencilerin sürekli oturduğu yerleri de gösterebiliriz. Öğrencilerin oturduğu yerleri gösteren krokiye **oturma planı** da deriz.

Krokide nesneleri çizerken geometrik şekiller kullanırız. Kare, dikdörtgen, çember, üçgen gibi şekiller çizeriz. Örneğin bir ev çizeceksek sadece kare kullanırız. Evin çatısı, içindeki eşyalar, pencere, kapı çizilmez. Geometrik şekillerin içine nesnenin ya da yerin adı yazılmalıdır.

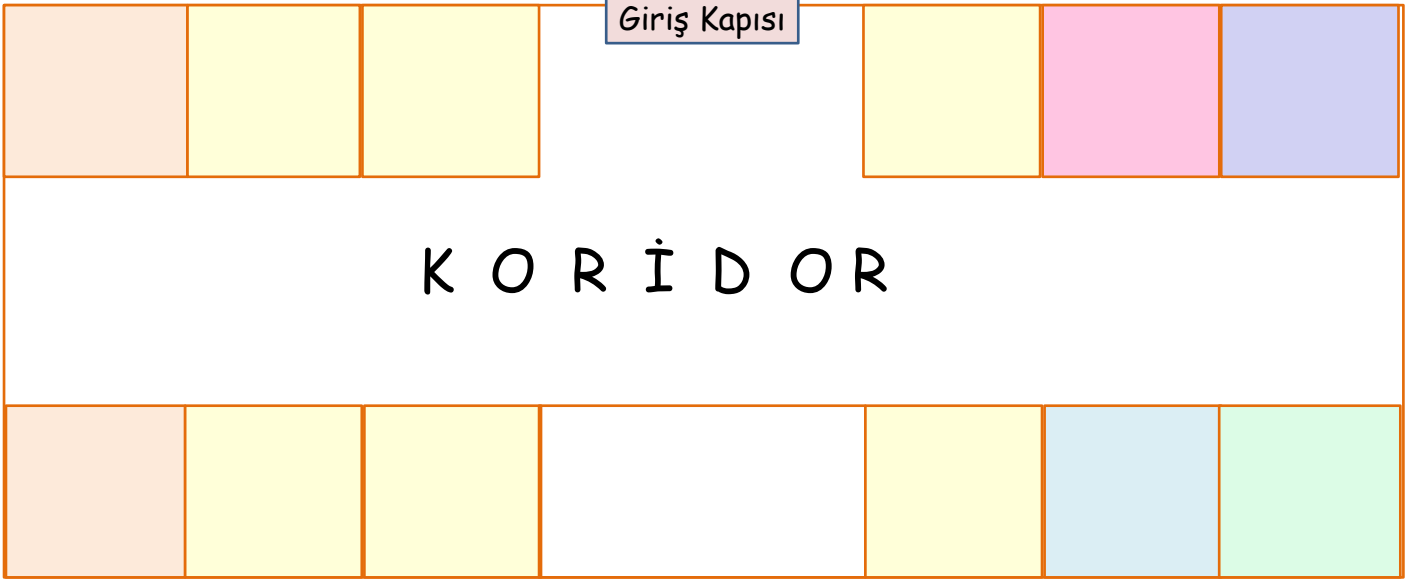


Adı :
Soyadı:

3. Sınıf
Hayat Bilgisi

Okulumuzda Hayat
Kroki Çizelim

Etkinlik-1 ➡ Verilen bilgilere göre okulumuzun krokisini tamamlayalım.



- 1 - Giriş kapısının sağında 3/A sınıfı, solunda 3/B sınıfı yer alır.
- 2 - 3/B sınıfının karşısında 4C sınıfı yer almaktadır.
- 3 - Müdür odası 3/A sınıfı ile öğretmenler odasının arasında yer almaktadır.
- 4 - 3/C sınıfı ile 4/A sınıfı karşı karşıyadır.
- 5 - Kızlar tuvaleti giriş kapısının en batısında yer alır.
- 6 - Kütüphane 4/B sınıfının sağında yer alır.
- 7 - Öğretmenler odasının karşısında rehberlik odası bulunur.
- 8 - Erkek tuvaleti kantinin en solunda yer alır.
- 9 - Kantin okulun en büyük bölümüdür.

Etkinlik-2 ➡ Yukarıda verilen krokide bulunan bölümleri yazınız.

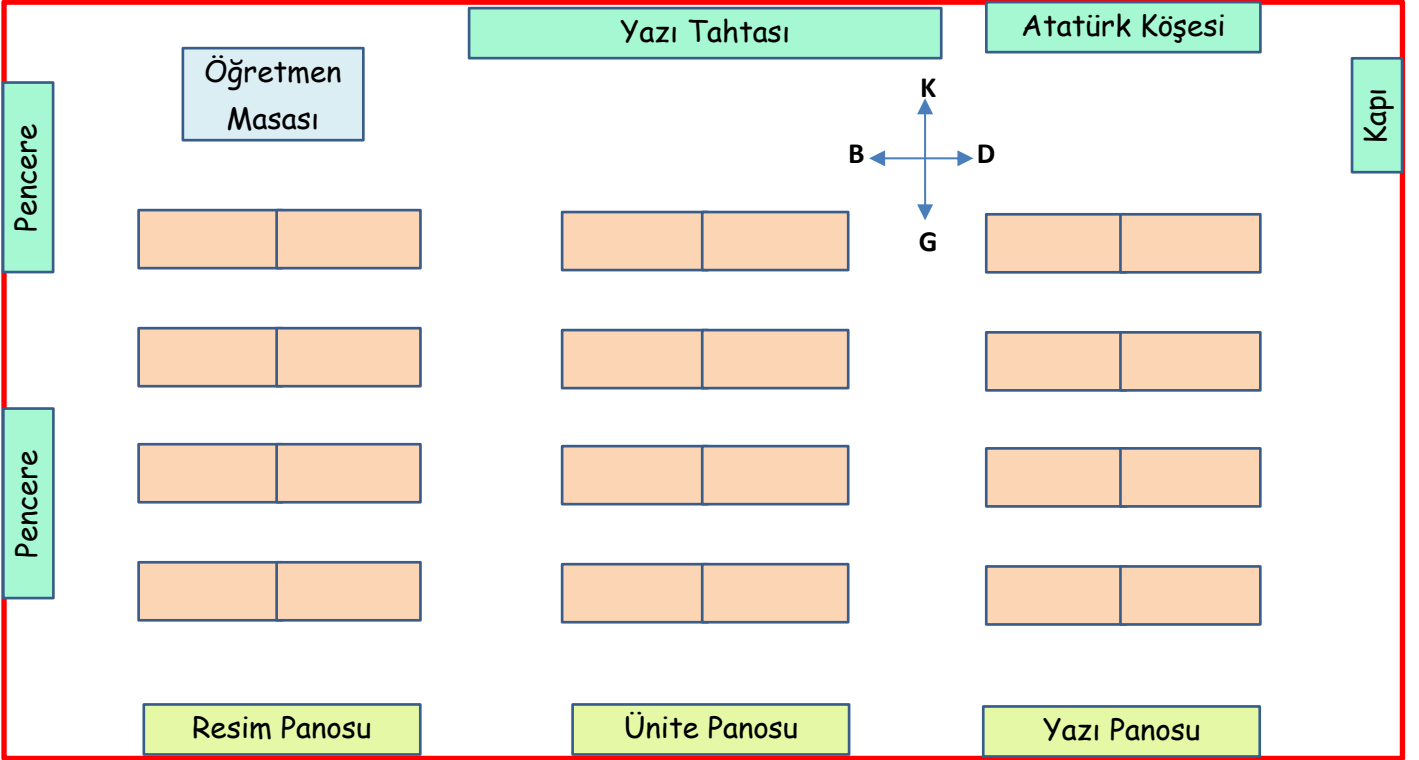
| | | | |
|-------|-------|-------|-------|
| | | | |
| | | | |
| | | | |

Adı :
Soyadı:

3. Sınıf
Hayat Bilgisi

Okulumuzda Hayat
Kroki Çizelim

Etkinlik-3 ➡ Sınıf krokisine göre öğrencilerin oturdukları yerleri yazalım.





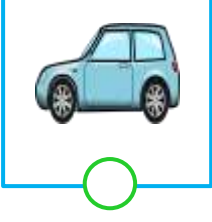


- 1 - Şule ile Zafer ünite panosunun önünde yan yana oturmaktadır.
- 2 - Mustafa öğretmen masasından en uzak sırada oturmaktadır.
- 3 - İlker kapıya en yakın sırada oturmaktadır.
- 4 - Osman pencere tarafında en arka sırada oturmaktadır.
- 5 - Aynur, Şule'nin 2 sıra önünde oturmaktadır. Pinar da Aynur'un solundadır.
- 6 - Hilal, Pinar'ın önündeki sırada kapı tarafında oturmaktadır.
- 7 - Tülay, Ayşe'nin yanında, Şerife de İlker'in yanında oturmaktadır.
- 8 - Süreyya arkasına dönüp Mustafa'dan silgi istedi.
- 9 - Esmâ ve Gülden Aynur'un arkasında oturmaktadır.
- 10 - Mehmet ile Handan, İlker'in arkasında oturmaktadır.
- 11 - Sami, Gülden'in sağında; Mesut ise Esmâ'nın solunda oturmaktadır.
- 12 - Pinar'ın solunda Aslı, Aslı'nın önünde Ayşe, arkasında Nazlı oturmaktadır.
- 13 - Reyhan sınıfın sol tarafında, Arzu sınıfın orta sıralarında, Özlem sınıfın en sağında oturmaktadır. Mustafa tek oturmaktadır.

Adı :
Soyadı:

3. Sınıf
Hayat Bilgisi

Okulumuzda Hayat
Kroki Çizelim

Etkinlik-4 → Bir sınıf ve okul krokisinde hangilerinin şekli ve yeri çizilmez?



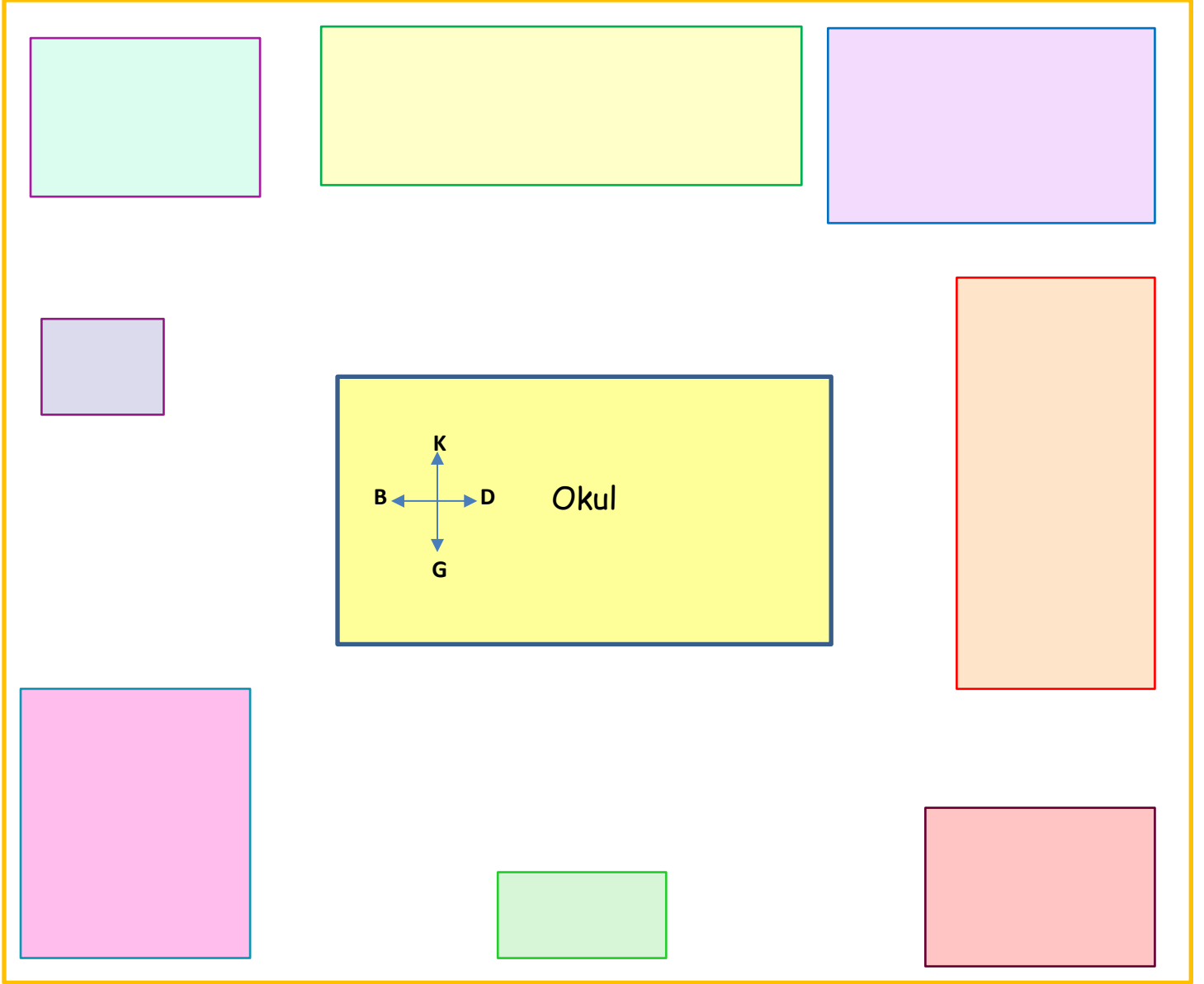
Etkinlik-5 → Sınıfınızın krokisini aşağıya çiziniz.

Adı :
Soyadı:

3. Sınıf
Hayat Bilgisi

Okulumuzda Hayat
Kroki Çizelim

Etkinlik-6 → Verilen bilgilere göre okul kroki yapınız.



- 1 - Spor salonu okulumuzun kuzeyinde yer almaktadır.
- 2 - Basketbol sahası spor salonunun doğusunda yer almaktadır.
- 3 - Güvenlik okulun batısında bulunmaktadır.
- 4 - Ana okulu okulumuzun doğusunda yer alır.
- 5 - Güvenliğin kuzeyinde çocuk parkı bulunur.
- 6 - Ana okulunun güneyinde araba parkı bulunur.
- 7 - Futbol sahası kantinin batısında yer almaktadır.

Adı :
Soyadı:

3. Sınıf
Hayat Bilgisi

Okulumuzda Hayat
Kroki Çizelim

Etkinlik-7 ➡ *Doğru mu? Yanlış mı?*

- ☐ İstanbul, Antalya, Ankara gibi şehirlerin krokisi büyük sayfalara çizilmelidir.
- ☐ Kroki çizerken masanın ayakları da gösterilmelidir.
- ☐ Krokilerde hareketli olan varlıkların şekli ve yeri çizilmez.
- ☐ Sınıfın, evin, okulun, caddenin krokisi çizilebilir.
- ☐ Kroki çizerken geometrik şekillerden yararlanılır.
- ☐ Kroki çizerken cetvel kullanabiliriz.
- ☐ Krokilerde bir şehirde yer alan dağ, göl, dere gibi yerler gösterilmelidir.
- ☐ Kroki çizerken evlerin çatısını, bacasını, penceresini de çizmeliyiz.
- ☐ Bir yerin krokisi o yerin kuşbakışı görüntüsüdür.
- ☐ Bir yerin krokisi o yerin kabataslak çizilmesidir.

Etkinlik-8 ➡ *Boşlukları dolduralım.*

| | | | | | |
|-------------|-----------|---------|----------|-----------|------------|
| projeksiyon | yönler | hareket | oturma | kuşbakışı | ismi |
| konum | geometrik | eşyalar | haritası | kroki | kabataslak |

- 1- Bir yerinçizilmesine kroki deriz.
- 2- Kroki çizerkenşekillerden yararlanılır.
- 3- Krokilerde şekilleri çizerken ölçerek birebir değil,çizeriz.
- 4- Öğrenci, öğretmen gibieden canlılar krokilerde gösterilmez.
- 5- Sokak, cadde gibi küçük yerlerin krokisi, şehirlerinçizilir.
- 6- Bir sınıfın krokisinde ampul,, bilgisayar gibi araçlar gösterilmez.
- 7- Öğrencilerin oturduğu yerleri gösteren krokiye planı da deriz.
- 8- Krokilerde geometrik şekillerin içine nesnenin ya da yerinyazılır.
- 9- Bir sokağın krokisinde çizilen evlerin içindekigösterilmez.
- 10- sayesinde bir yerin nerede olduğunu rahatlıkla görebiliriz.

Adı :
Soyadı:

3. Sınıf Hayat Bilgisi

Okulumuzda Hayat Kroki Çizelim



1 Yukarıdaki krokiye göre Oya, Veli'ye ziyarete giderken hangi binanın önünden geçmez?

- A) Eczane B) Banka C) Dükkan

2 Yukarıdaki krokiye göre Banu parka giderken hangi caddeden geçmek zorundadır?

- A) Hürriyet Caddesi
B) Özgürlük Caddesi
C) Özgürlük Caddesi ve Hürriyet Caddesi

3 Emre Özgürlük Caddesi'ni kullanarak eczaneye gitmektedir. Hangi arkadaşının evinin önünden geçmez?

- A) Banu B) Derya C) Murat

4 Yandaki krokiye göre Veli en kısa yolu kullanarak önce parka, sonra da bakkala gidiyor. Veli hangi binayı görmemiştir?

- A) Cami B) Fırın C) Okul

5 Aşağıdakilerden hangisi krokinin özelliklerinden biri değildir?

- A) Kabataslak çizilir.
B) Bütün ayrıntılar gösterilir.
C) Kuş bakışı çizilir.

6 Sınıfımızda oturduğumuz yeri belirtmek için sınıf krokisi çizmek istersek aşağıdakilerden hangisini göstermemize gerek yoktur?

- A) Projeksiyon cihazı
B) Yazı tahtası
C) Öğretmen masası

7 Aşağıdakilerden hangisinin krokisini çizmek zordur?

- A) Antalya'nın
B) Yenigün Sokağı'nın
C) 3/C sınıfının